

GENEL YETENEK SINAVI

1) "Hikâyelerinde hayali tasvirlerle asla yer vermez." cümlesindeki altı çizili sözcüğün cümleye kattığı anlam aşağıdakilerden hangisinde yoktur?

- A) Yapıtlarında toplumsal konulardan hiç bahsetmez.
- B) Sanatçı, gereksiz ayrıntılara kesinlikle girmez.
- C) İnandığı doğruları mutlaka bir gün yazacaktır.
- D) Sürekli çalışır, hiçbir zaman yorgunluk hissetmez.
- E) Yabancı sözcüklerden kaçınır, özentili anlatımı sevmez.

2) Bakan bir gün Darphane'ye gelir ve bir ilkokul müfettişi gibi parmağını sağa sola sürüp toz arar. Sonra da "Burası çok kirli." der. Darphane yöneticisi Cemal Süreya: "Çok haklısınız Sayın Bakan, şimdi kirlendi burası." karşılığını yapıştirir. **Bu parçada Cemal Süreya'nın konuşmasında geçen "burası şimdi kirlendi." sözünün kullanılışından doğan anlam özelliği aşağıdakilerden hangisinde en uygun biçimde belirtilmektedir?**

- A) Bir gerçeğin kabullenildiğini vurgulama
- B) Anlatılmak isteneni, alaylı bir biçimde anlatma
- C) Gerçek neden yerine başka bir neden gösterme
- D) Bir durumu abartarak anlatma
- E) Bir gerçeği bilmezlikten gelerek anlatma

3) O tatlı sesli, iyi yürekli sanatçıyı kaşla göz arasında yitiriverdik; artık yok. **Bu cümlede altı çizili sözün yerine aşağıdakilerin hangisi getirilirse cümlemin anlamı değişmez?**

- A) hiç istemeden
- B) çok kısa zamanda, aniden
- C) insanların şaşkın bakışları altında
- D) olmaz denecek bir zamanda
- E) hayretler içinde

4) (I) Bir yabancı dil bilmek, özellikle de İngilizce, bir oyuncuya çok şey katıyor ve öncelikle çevirmene mahkûm oluyorsunuz. (II) Bir oyunu kendi dilinde okumak gibisi yok. (III) Önünüzde sonsuz kapılar açılıyor. (IV) Bu yüzden bütün büyük oyuncuların birkaç dili birden ustalıkla kullandığını sanıyordum. (V) Ama yine de dil bilmeyenleri eleştirmek olanaksız bu eğitim koşullarında. **Bu parçada numaralanmış cümlelerin hangisinde gerçekleşmemiş bir beklenti vardır?**

- A) I. B) II. C) III. D) IV. E) V.

5) (I) Geçenlerde öylesine elime aldığım romanı okuyunca çok beğendim. (II) Roman- da kahramanların yaşantısı şu anda bizlerin yaşantısına öyle benziyor ki... (III) Son zamanlarda genç yazarların yayımladığı romanlar arasında okuduğum en başarılı romandı bu. (IV) Sanatçının şimdiye kadar yazdığı romanlar arasında en güzeli diyebileceğim bir roman. (V) Bu romanın, yazarın diğer romanlarına benzemeyen yönlerini ele alan bir yazı yazmayı düşünüyorum. **Bu parçada numaralanmış cümlelerin hangisinde yazar bir tasarıdan söz etmiştir?**

- A) I. B) II. C) III. D) IV. E) V.

6) **Aşağıdakilerden hangisinde insana özgü nitelikler doğaya aktarılmıştır?**

- A) Sözlere ve bakışlarıyla kasıp kavurdu ortalığı.
- B) Ülkemizin eğitimde yeterli olmadığını kabul etmeliyiz.
- C) Karlar içine gömülmüş çocuklar, tarlalardaki çiçekler gibiydi.
- D) Bu gece ay İstanbullu, hepimiz gibi Boğaz'ı seyrederken.
- E) Yavaş yavaş çöken akşam karanlığı Beyoğlu'na başka bir güzellik katıyor.

7) (I) Yazar, elli yıldan beri eğitimci, denetçi görevlerinin yanında yazarlığını sürdürmüş. (II) Yazılarında, konularını ele almada ayrıntının içine düşmemiş. (III) İnceleme yazılarını olabildiğince söz azlığı içinde ama eksiksiz vermede örnek bir yol izlemiş. (IV) Kentler, kentlerde yaşayan insanlar gibi konular da kimi yazılarda yer almış. (V) İçeriği ile, kurgusu ile örnek, özellikli bir yapıt. **Yukarıdaki cümlelerin hangilerinde öznel bir değerlendirme söz konusu değildir?**

- A) I. ve II. B) I. ve IV. C) II. ve III.
D) III. ve V. E) IV. ve V.

8) **Aşağıdaki dizelerin hangisinde "uyarı" anlamı vardır?**

- A) Yeni bir engeli çiğner aşarız
Ümide kapılıp böyle yaşarız
- B) Bir sabah söyledi son sözlerini
Yumdu dünyaya ela gözlerini
- C) Ömrüm helak ettim senin peşinde
Yüz bin çile vardır her bir işinde
- D) Ne güzel seni bulmak bütün yüzlerde
Sonra seni kaybetmek hemen her yerde
- E) Güzelliğe kanma, hayalden vazgeç
Yalancı rüyalarından sakın ha sakın

9) **Aşağıdakilerin hangisinde ikinci cümle, birinci cümlede kullanılan deyim anlamını içermez?**

- A) İşyerinde istediği gibi at oynatıyor.
Ortalığı boş buldu, dilediği gibi davranıyor.
- B) Öğretmenlikte sen giderken ben geliyordum.
Bu işi senden daha iyi bilirim.
- C) Yardımcısı gelmeyince iş başa düştü.
Bütün işleri tek başına yapmak zorunda kaldı.
- D) Genç, bu kentte sudan çıkmış balığa dönmüştü.
Bulduğu ortama ısınmamıştı, yabancılık çekiyordu.
- E) Bu işte de oyuna gelmişti.
Sürekliliği yapıp itibarını kaybetti.

10) **Çocuk okuyucu hedeflenerek yazılan kitaplarla ilgili olarak aşağıda verilen cümlelerden hangisi, ötekilerden farklı bir görüşü dile getirmektedir?**

- A) Yazarın roman ve hikâyeyi çocuklar için yazması, onu genellikle gözlemcilikten ve dili tam olarak kullanmaktan uzaklaştırıyor.
- B) Masallardan, halk hikâyelerinden de beslenen çocuk edebiyatı, çocuklara bin yılların değerlerini de aktarma hizmeti görüyor.
- C) Çoğu yazar, çocuklar için yazarken büyüklere göre yazsa gözeteceği estetik kaygıları gözetmiyor.
- D) Çocuklar için özel edebiyat yapıtları üretmek, çocukları evrensel kültürden uzak tutup bir fanusa kapatmak anlamına geliyor.
- E) Çocuk kitaplarının çok satılması, yazarları, bunları özensiz, çabuk ve fazla hafif yazmaya yöneltiyor.

11) Yirmi beş odalı bir şato yaptırıp on yıl yaşadı orada ve sayısız roman yazdı. (I) Ne var ki ünü de milyarları da yalnızlıktan kurtaramadı onu. (II) Karısı bir kalp kriziyle ayrılmıştı ondan, dört çocuğunun her biri bir yana dağılmıştı. (III) Yalnızlığıyla üç dört yıl yaşadı. (IV) Sonunda şatosunu da arabalarını da sattı, nispeten küçük bir apartman dairesine yerleşti. (V)

Düşüncenin akışına göre "O koca şatoda altı arabası ve dokuz hizmetçisiyle yapayalnız kalmıştı." cümlesinin yukarıdaki parçada numaralanmış yerlerden hangisinin sonuna getirilmesi uygun olur?

- A) I. B) II. C) III. D) IV. E) V.

12) "Halktan uzak kalmak şairlerimize öyle pahalıya mâl olmuş ki bugün hiçbiri kendi milletiyle tercümansız konuşmuyor." **cümlesiyle aşağıdakilerden hangisi anlamca yakındır?**

- A) Halkımız, şairlerimizin dilini ve ustalığını kavrayamayacak kadar geri kalmıştır.
- B) Şairler, İstanbul dışına çıkmadan Anadolu insanını anlamaya çalışmışlardır.
- C) Halk, eserlerinde kendisini dile getirmeyen sanatçıları hoş karşılamaz.
- D) Şairlerimiz, halkın diliyle şiir yazmadıkları için halktan uzak kalmışlardır.
- E) Şairlerimiz, Anadolu halkını tanıma yoluna gitmemişlerdir.

13) **Aşağıdaki cümlelerin hangisinde bir yazım yanlışı vardır?**

- A) Otlar sabahın çiğ damlalarıyla serinler.
- B) Geceler onun önünde bir okyanus gibi açılırdı.
- C) Şarkılarına eşlik ederdim ve uzakdan ağlardım.
- D) Gözlerim gözlerine değince öleceğimi zannederdim.
- E) O iyi niyetli krala ettiklerimizin hesabını zor veririz.

14) (I) Oyuncaklar üzerine felsefi bir deneme yazmayı düşünüyorum. (II) Aklımı pek kurcalıyor bu konu. (III) Ama ciddi ve uzun bir hazırlığa girişmeden cesaret edemiyorum konuyu ele almaya. (IV) Bugün için çocukları eğlendiren kitaplardan söz açmakla yetineceğim yine. (V) Hani bundan söz etmek bile pek kolay değil. (VI) Yine de bu, oyuncaklardan daha tanıdık bana.

Bu parçada I. cümlede sözü edilen tasarının gerçekleşme koşulu, numaralanmış cümlelerden hangisinde verilmiştir?

- A) II. B) III. C) IV. D) V. E) VI.

15) (I) Ömer, yaşamın güçlüğünü düşündüğünden çocuk sahibi olmak istemiyor. (II) "Dünyaya gelmemiş olan, ne kadar mutlu!" diyor. (III) Söylediği, insanları etkiliyor. (IV) Görüldüğü gibi, ikisinin çocuk sahibi olmak istemeyişlerinin nedenleri farklı. (V) Karısı ihtirassız olduğu, Ömer de ihtirassız olduğu için bundan uzak duruyor.

Bu parçada numaralanmış cümlelerden hangisinde virgülün kaldırılması cümlenin anlamını değiştirir?

- A) I. B) II. C) III. D) IV. E) V.

16) I. Atının soluğu mu duyduğum bu mevsimde
II. Karadeniz kıyısında gül yankısı mı
III. Telaşlı bir haberci göğüsü gibi
IV. İnip kalkan dalgaların ardarda
V. Çizdiği kemer boşluklarından

Numaralanmış dizelerin hangilerinde yazım yanlışı yapılmıştır?

- A) I. ve II. B) II. ve III. C) III. ve IV.
D) IV. ve V. E) I. ve III.

17) Aslen tiyatro eğitimi alan Alman yazar Birgit Brandanu, ilk romanı "Kadeş Galibi"nde gerçek Hitit metinlerinden yola çıkılarak tarihsel olayları bir detektiflik kurgusunda anlatıyor.

Bu cümledeki anlatım bozukluğu aşağıdaki değişikliklerden hangisiyle giderilebilir?

- A) "yazar" sözcüğü cümleden atılarak
- B) "çıkarılarak" yerine "çıkarak" sözcüğü getirilerek
- C) "tarihsel olayları" sözü cümleden çıkarılarak
- D) "gerçek" sözcüğü cümleden çıkarılarak
- E) "alan" yerine "gören" sözcüğü getirilerek

18) (I) Yaşamaya alışmak kolay değil. (II) Yaşamı sürdürmek için bir sürü koşul var. (III) Bu koşulları bilmek yetmiyor, uymak da gerekiyor. (IV) Eninde sonunda yaşam serüveni bir kurallar toplamına dönüşüyor. (V) Bu kurallar büyük ölçüde yaşantımızın sınırlarını oluşturuyor.

Yukarıdaki numaralanmış cümlelerin hangisinde bir anlatım bozukluğu vardır?

- A) I. B) II. C) III. D) IV. E) V.

19) **Aşağıdaki cümlelerin hangisinde bir anlatım bozukluğu vardır?**

- A) Bu elbise tam istediğim gibi dikilmiş.
- B) Mutlaka sana bu işi geç vermesinin bir nedeni olabilir.
- C) Sanıyorum bu sınav sorularını ben hazırlayacağım.
- D) Önümüzdeki aylarda mutlaka tatile çıkacağım, dedi.
- E) Dışarıda bugün ılık bir bahar havası var.

20) Birden bana döndü () sordu () "Ben gördüm () ama sen görmedin ha ()" Ne diyeyim bilmem ki...

Yukarıda parantezle gösterilen yerlere getirilecek noktlama işaretleri hangi seçenekte doğru olarak verilmiştir?

- A) (.) (:) (:) (?) B) (.) (.) (:) (?) C) (:) (:) (.) (!)
D) (.) (:) (.) (!) E) (.) (:) (:) (!)

21) Sanat yaşamımızda dayanışmanın bir gerçek olarak öne çıkışı başka bir yönden kötü sonuçlar doğuruyor. (I) Sanat çarşısının minik esnafı işine gelmeyen bir ürünü bir kayırma ürünüymiş gibi gösterip karalıyor. (II) Dergi yöneticilerine mektup yazılıyor, dedikodu makineleri çalıştırılıyor. (III) Yazarlığım boyunca çeşitli konularda yazılar yazdım, yazdıklarımı karalayanlar oldu. (IV) Varlık'taki yazım için söylenenler etkisiz kalmadı. (V) Yeditepe'de yayımlanacak yazım için de konuşacaklar, bunu biliyorum.

Bu parça iki paragrafa bölünmek istense ikinci paragraf kaç numaralı cümleyle başlar?

- A) I. B) II. C) III. D) IV. E) V.

22) **Aşağıdaki cümlelerden hangisinde somutlamaya başvurulmuştur?**

- A) Halka yakınlaşma sürecinin hızlanmasıyla birlikte, halkı aydının düzeyine getirme değil de aydını halkın bilgi birikimine yöneltme ortaya çıktı.
- B) Çoğu insana göre aydın dediğin, neyin neden olduğunu bir gerekçe bulup açıklayan kişidir; üstelik o sırada da kimseleri kızdırmaz.
- C) Çok sayıda insanla doğrudan doğruya ilişki kuran, onları bir an önce bilinçlendirme derdindeki gazeteci, genellikle yazardan sayılmıyor bile.
- D) Gün ışığının gidişi, dağları nasıl menekşe rengi bir silüet haline sokuyorsa iç huzurun gidişi de insanı, bir umutsuzluk fonu önündeki silüete çeviriyordu.
- E) Kumsallarda dans ederken deniz geceye, gece de denize karışmış gibidir ve onların içinde insan bütün dertlerinden uzaklaşır.

23) **Aşağıdaki cümlelerin hangisinde bir anlatım bozukluğu vardır?**

- A) Bu sebepten vatandan ayrılmak daha da zor geliyordu.
- B) Çocuklarla ilgili yaptığı işler konusunda da, çok başarılıdır.
- C) On yıldan fazla bir süredir, antropoloji, psikoloji, teoloji okuyordum.
- D) İlgimi çeken tarihi yapılarından biri de Mısır ülkesindeki piramitler oldu.
- E) "Onun, bana ev işlerinde yardım etmesinde ne sakınca var?" diye sordu.

24) Günboyu ne çok şeyin yanından geçip gidiyoruz. Burnumuzun dibindeki nice şeyi görmüyor, onlarla hiç karşılaşmıyoruz. Bizi bizden, bizi başkalarından ve dağ gibi birikimlerden uzaklaştıran ne çok yol var önümüzde. Ne kadar çok şey geçmişin sandıklarına kilitlenmiştir, ne kadar fazlası geleceğe ertelenmiş.

Bu parçada yazarın asıl yakındığı aşağıdakilerden hangisidir?

- A) İnsanları hor görüp sadece kendi doğrularımızla hayata bakmamızdan
- B) Yapmayı planladığımız çoğu şeyi farkında olalım olmayalım hep ertelediğimizden
- C) Elimizdekilerin değerini bilmeden, hiçbir şeyi farkında olmadan yaşadığımızdan
- D) Günümüz insanının birbirinden kopuk oluşundan
- E) Hayata at gözlükleriyle bakan, ön yargılı insanlar olduğumuzdan

25) Bilmem, hiç düşünmedim! İlle de bir yere koymam da gerekmiyor. Pop müzik kulvarında olduğumu sanıyorum. Bir müzik türü için özel çalışmadım; ama deneysel işler yapma hevesimi de hiç törpülemedim. Şarkılarımı oluştururken popüler olma kaygım olmasa da ortaya çıkan albümler yüksek tirajlara ulaştığına göre yaptığım işe "pop" demek doğrudur.

Bu sözler aşağıdaki sorulardan hangisine karşılık söylenmiş olabilir?

- A) Sizce sizin müziğiniz ne tür müzik sayılabilir?
- B) Müzikte yeni açılımları denediğiniz oldu mu?
- C) Popüler olma kaygısı mı sizi popa yönlendiriyor?
- D) Yüksek tirajlara ulaştığımız için mi yaptığımız müziğe pop diyorsunuz?
- E) Şarkılarda sözlerin de melodi kadar önemli olduğuna inanıyor musunuz?

26) Yeni bir yılı bu geceyarısı gülerken, eğlenerek karşılayacağız. Kendim için demiyorum bunu. Yılbaşlarında bir yere gitmem ben. Gülüp eğlenmek için bir istek de duymadım hiç. Kimi kandırıyoruz bu zoraki gülüşmelerle? Herkes ancak kendini kandırır yeryüzünde. Her yeni yıl bize mutluluk, esenlik getirecek sanısıyla...

Bu parça düşüncenin akışına göre aşağıdakilerden hangisiyle sürdürülemez?

- A) kendimizi rahatlatırız.
- B) çevremizi, kendimizi aldatırız.
- C) gelecekte çok şey bekleriz.
- D) mutlu olmaya çalışırız.
- E) umutsuzluğu elden bırakmayız.

27) Sanatçımız, kılı kırk yaran, yaman bir gözlemci. Yapıtlarında iktisat ve tarımdan eğitime kadar köyün bütün sorunlarını hem de ilerici bir tutumla ele almış; insanlarını eleştirmiş, sırasına göre övmüş, sırasına göre yermiş. Çevrenin gelenek ve göreneklerini, günlük hayatın girdisini çıktısını ve başkalarının duygusal dünyalarını inceden inceye önümüze sermiş.

Bu parçadan söz konusu sanatçıyla ilgili aşağıdakilerden hangisi çıkarılamaz?

- A) Yapıtlarında aydın bir bakış açısı takındığı
- B) Yaşadığı sosyal hayatı ayrıntılarıyla anlattığı
- C) Yurdumuzun yetiştirdiği sayılı büyük sanatçılardan olduğu
- D) Köylünün sıkıntılarına duyarlı davrandığı
- E) Ürünlerini ortaya koyarken tek taraflı davranmadığı

28) Bu kitap pek çok öykü ve romanıyla yakından tanıdığımız Burhan Günel'in daha önceden yayımlanmış iki öykü kitabını bir araya getiriyor. Bu yüzden kitap iki bölümden oluşuyor. Birinci bölüm "Yine Bir Gülnihal" yedi öyküden oluşuyor. Bunlar gurbet öyküleri. İkinci bölüm "Karanfil ve Hançer". Beş öykülük bu bölümde ise başkaldırı ve aşk anlatılıyor.

Bu parçada aşağıdakilerden hangisine değinilmemiştir?

- A) Kitabın yazarının öykü dışındaki türlerde de yazdığına
- B) Kitabın, daha önceden yayımlanmış öykülerden oluştuğuna
- C) Öykülerin içeriklerinin neler olduğuna
- D) Yazarın öykülerinde kullandığı anlatım özelliklerine
- E) Öykülerde bireysel konulara da yer verildiğine

29) Birtakım sanatçıların, yazarların birbirlerine sokulup bir çevre kurmaları yazılarını, yargılarını dostluklara, sevgilere açmaları ısınmadığım işlerden. Eleştirinin başladığı yerde dostluklar, adam kayırmalar sona ermelidir, bence. Her dediğine kafa sallayan kişilerden, yaptığı her işi beğenenlerden ürkmeli insanoğlu. Hele sanat alanında dostluk kavramını çamura bulayan o gibi kimseleri düşmanlarımızla bir tutmamız gerekir.

Bu parçada vurgulanmak istenen düşünce aşağıdakilerden hangisidir?

- A) İnsanların eleştiride gerçek düşüncelerini saklaması gerektiği
- B) Sanatta dostlukların gelip geçici olduğu
- C) Eleştirinin nesnel yapılması gereken bir iş olduğu
- D) Çıkara dayanan dostlukların insana zarar verdiği
- E) Eleştirinin fazla dostu olmaması gerektiği

30) "Kara Bibik" in yazarından başlayıp ustamız Yakup Kadri'yi de içine katarak, bugüne değin gelen bütün köy romancıları; dostlarımız Yaşar Kemal, Fakir Bayburt, Talip Apaydın ve başkaları; bütün denemeciler ve yazarlar; anlatımda olsun, sorunları görme ve yorumlamada olsun, hiçbirimiz büyük bir köylü sanatçı olan Umman Nene'nin eline su bile dökemeyiz.

Bu parçada asıl anlatılmak istenen aşağıdakilerden hangisidir?

- A) Edebiyatımızda köyü anlatan birçok usta yazar olduğu
- B) Umman Nene'nin de ünlü yazarlar kadar başarılı olduğu
- C) Ancak usta yazarların köyü ve köylüyü gerçekçi yansıttığı
- D) İyi köy romanı yazmak için araştırmacı ve gözlemci olmak gerektiği
- E) Umman Nene'nin köyü ve köylüyü tanınmış yazarlardan iyi anlattığı

31) $\frac{(-2)^3 \cdot (-2^{-4}) \cdot (-2)^2}{-(-2)^3 \cdot (-2^{-3})}$ işleminin sonucu kaçtır?

- A) -4
- B) $-\frac{1}{4}$
- C) $\frac{1}{8}$
- D) $\frac{1}{4}$
- E) 4

32) $2^a = 29$
 $3^b = 38$ ve
 $5^c = 52$ olduğuna göre,
aşağıdaki sıralamalardan hangisi doğrudur?

- A) $b < a < c$
- B) $c < a < b$
- C) $b < c < a$
- D) $c < b < a$
- E) $a < b < c$

33) $43! - 43$ sayısının sondan dört basamağının toplamı kaçtır?

- A) 10
- B) 20
- C) 30
- D) 40
- E) 50

34) $\sqrt{x + \sqrt{x + \sqrt{x + \dots}}} - \sqrt{3 \sqrt{3 \sqrt{3 \dots}}} = \sqrt[4]{32 : \sqrt[4]{32 : \dots}}$ ise x kaçtır?

- A) 12
- B) 20
- C) 30
- D) 42
- E) 56

35) Farkları 24 olan iki sayının toplamlarının $\frac{1}{6}$ sı, büyük sayının $\frac{2}{9}$ unun 1 fazlasına eşittir.

Bu sayıların toplamı kaçtır?

- A) 45
- B) 52
- C) 58
- D) 66
- E) 72

- 36) $a, b \in \mathbb{N}^+$ olmak üzere
 $(2a + b + 2)$ ve $(5b + a + 2)$ aralarında asal iki sayı olmak üzere
 $\text{OKEK}(2a + b + 2, 5b + a + 2) = 300$ ise
a . b kaçtır?

A) 4 B) 6 C) 8 D) 10 E) 12

- 37) $\frac{3a-3}{2a-4} \cdot \frac{a^2-1}{a^2-a-2}$ ifadesinin en sade biçim aşağıdakilerden hangisidir?

A) $\frac{5a}{2}$ B) $\frac{3}{2}$ C) $\frac{3a+1}{4}$ D) 1 E) $\frac{1}{2}$

- 38) $x = 4 + \sqrt{5}$ ve $y = 4 - \sqrt{5}$ ise $x^2 + 2xy + y^2$ ifadesinin değeri kaçtır?

A) 80 B) 64 C) 48 D) 25 E) 16

- 39) $\frac{3x}{x-1} + \frac{1}{1-x} = 0$ denklemini sağlayan x kaçtır?

A) $\frac{5}{2}$ B) 2 C) 1 D) $\frac{2}{3}$ E) $\frac{1}{3}$

- 40) $(3x-6)^2 + (4y+12)^2 = 0$
denklemini sağlayan x ve y değerlerinin çarpımı kaçtır?

A) -2 B) -3 C) -4 D) -5 E) -6

- 41) $x, y \in \mathbb{Z}$ olmak üzere
 $4 < x - y < 16$ ve $\frac{x-y}{2x} = -2$ ise **x + y toplamı en çok kaçtır?**

A) -18 B) -15 C) -12 D) -6 E) -5

42) ★

	a	b	c	d	e
a	e	a	b	c	d
b	a	b	c	d	e
c	b	c	d	e	a
d	c	d	e	a	b
e	d	e	a	b	c

A = {a, b, c, d, e} kümesi üzerinde tanımlanan ★ işlemleri tablo ile belirtilmiştir.

Buna göre $(d \star x)^{-1} \star (b \star c) = a$ ise **x aşağıdakilerden hangisidir?**

A) a B) b C) c D) d E) e

- 43) "İdil matematik soru bankasını her gün eşit sayıda soru çözerek 25 günde bitirmektedir. Eğer günde 20 soru fazla çözeseydi kitap 20 günde bitecekti. Bu kitap kaç sorudan oluşmaktadır?"

Bu problemin çözümünü veren denklemler aşağıdakilerden hangisidir?

A) $25x = 20(x + 20)$ B) $\frac{x}{20} - \frac{x}{25} = 20$ C) $\frac{x}{25} = \frac{x}{20} + 20$
D) $25(x - 20) = 20x$ E) $20x = 25(x + 20)$

- 44) Bir su deposunun $\frac{2}{3}$ ü su ile doludur. Depodaki suyun $\frac{3}{5}$ i kullanıldıktan sonra depoya 6 lt su doldurulursa deponun $\frac{1}{3}$ ü dolu oluyor. **Deponun tamamı kaç lt su alır?**

A) 80 B) 90 C) 100 D) 120 E) 140

- 45) Sarı ve kırmızı renkli bilyeler bulunan bir kutuda sarı bilyelerin sayısı 3 kat artırılır ve kırmızı bilyelerin sayısı yarısı kadar azaltılırsa, kutuda kalan kırmızı bilyelerin sayısı sarı bilyelerin sayısına eşit oluyor.

Başlangıçtaki kırmızı bilyelerin sayısı sarı bilyelerin sayısının kaç katıdır?

A) 5 B) 6 C) 7 D) 7,5 E) 8

- 46) İki kardeşin yaşları farkı 2 dir. Babanın yaşı iki oğlunun yaşları toplamından 10 fazladır. Baba ile büyük oğlunun yaşları farkı 24 ise, **büyük çocuk kaç yaşındadır?**

A) 14 B) 16 C) 18 D) 20 E) 25

- 47) A ve B den aynı anda birbirine doğru yola çıkan iki araç C noktasında 2 saat sonra karşılaşıyor. Hızları farkı 30 km/sa olduğuna göre, **|AC| - |BC| kaç km dir?**

A) 120 B) 80 C) 60 D) 30 E) 15

- 48) Nuray bir işin $\frac{3}{4}$ ünü tek başına 12 saatte, Serra ise aynı işin yarısını tek başına 24 saatte bitirebiliyor. **İkisi birlikte bu işin $\frac{2}{3}$ ünü kaç saatte bitirebilir?**

A) 6 B) 7 C) 8 D) 9 E) 10

- 49) %35 i dolu olan bir benzin deposuna 13 litre benzin ilave edilince boş kısmın % 40 ı olduğuna göre **başlangıçtaki benzin miktarı kaç litredir?**

A) 15,5 B) 16 C) 16,5 D) 17 E) 17,5

- 50) Bir sınıftaki öğrencilerin %64 ü erkektir. Kızların % 75 i matematik dersinden başarılı olduğuna göre **matematik dersinden başarısız olan kızların sayısı sınıftaki öğrencilerin sayısının yüzde kaçdır?**

A) 5 B) 6 C) 7 D) 8 E) 9

- 51) Bir malın $\frac{1}{4}$ i %30 kâr ile kalanı da %10 zarar ile satılıyor.

Buna göre, bu satış sonundaki kâr-zarar durumu aşağıdakilerden hangisidir?

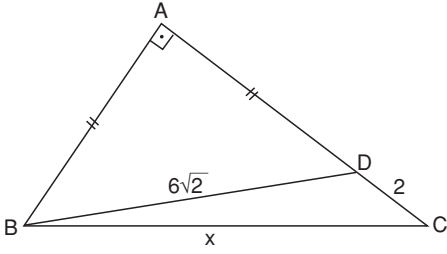
A) %10 zarar B) % 2 zarar C) %2 kâr
D) %10 kâr E) Ne kâr ne zarar

- 52) A bankasına yıllık %60 tan 4 ay faize verilen para, B bankasına yıllık %75 ten 4 ay faize verilseydi 15 YTL fazla faiz geliri elde edilecekti.

Buna göre, faize verilen para kaç YTL dir?

A) 200 B) 300 C) 400 D) 500 E) 600

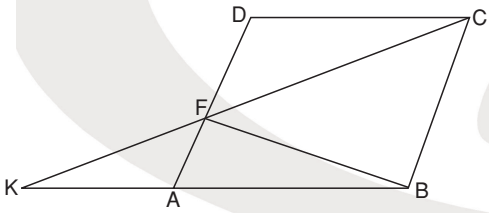
53)



Şekildeki ABC dik üçgeninde;
|AB| = |AD|,
|BD| = $6\sqrt{2}$ cm ve
|CD| = 2 cm ise,
|BC| = x kaç cm dir?

A) 8 B) 10 C) 12 D) 14 E) 15

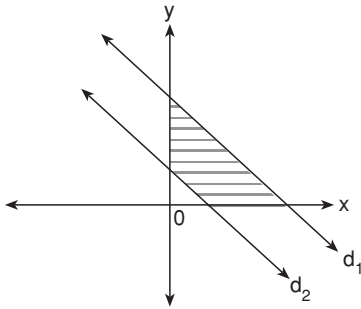
54)



Şekilde ABCD paralelkenar,
BKC üçgen
|AB| = 4|AK| ve
 $A(\widehat{BFA}) = 16 \text{ cm}^2$ ise,
paralelkenarın alanı kaç cm^2 dir?

A) 160 B) 164 C) 172 D) 196 E) 212

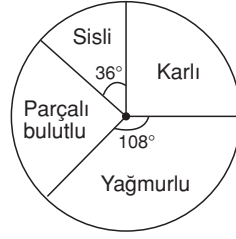
55)



$d_1: 3x + 4y = 24$ ve $d_2: x + 4y = 4$ ise, **taralı alan kaç br^2 dir?**

A) 22 B) 36 C) 38 D) 44 E) 46

56)

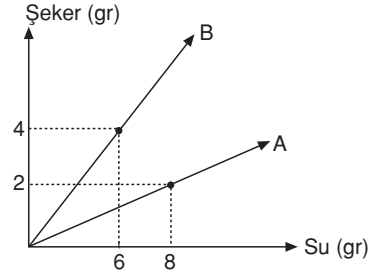


Grafikte, bir ilin 30 günlük hava durumu gösterilmektedir.

Buna göre, kaç gün karlı veya parçalı bulutlu geçmiştir?

A) 12 B) 14 C) 16 D) 18 E) 20

57)

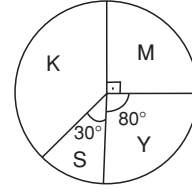


Su ve şekerden oluşan A ve B karışımlarındaki su ve şeker miktarları yukarıdaki grafikte verilmiştir.

A ve B den birer kilo alınıp karıştırıldığında oluşan karışımın şeker oranı yüzde kaç olur?

A) 25 B) 30 C) 35 D) 40 E) 45

58. - 60. soruları aşağıdaki grafiğe göre cevaplayınız.



Yukarıdaki grafik bir binada kullanılan boya oranını göstermektedir.

K: Kırmızı S: Sarı
M: Mavi Y: Yeşil

58) **Binanın yüzde kaç mavi ile boyanmıştır?**

A) 15 B) 20 C) 25 D) 30 E) 50

59) **Kullanılan kırmızı boyanın diğer boyalara oranı kaçtır?**

A) $\frac{2}{5}$ B) $\frac{3}{5}$ C) $\frac{4}{5}$ D) $\frac{3}{7}$ E) $\frac{4}{7}$

60) **Yeşil boyadan toplam 5 kilo kullanıldığına göre binanın boyanmasında toplam kaç kilo boya kullanılmıştır?**

A) 20 B) 22,5 C) 25 D) 27,5 E) 30

**GENEL YETENEK TESTİ BİTTİ.
GENEL KÜLTÜR TESTİNE GEÇİNİZ.**

GENEL KÜLTÜR SINAVI

- 1) I. Çin baskısı
II. Nüfus artışı
III. Dini inancı yayma isteği
Yukarıdakilerden hangileri Türk göçlerinin nedenleri arasında gösterilebilir?
- A) Yalnız I
B) I ve II
C) I ve III
D) II ve III
E) I, II ve III
- 2) **Türk - İslam devletlerinde askerlere maaş karşılığında verilen toprak aşağıdakilerden hangisidir?**
- A) İktâ B) Yurtluk C) Vakıf D) Mülk E) Has arazi
- 3) **Türk - İslam devletlerinde hükümdar çocuklarının eğitiminden sorumlu kişilerin aldığı unvan aşağıdakilerden hangisidir?**
- A) Sultan B) Melik C) Vezir D) Emr-i Dad E) Atabey
- 4) **Aşağıdakilerden hangisi Lale Devri'ne ait ünlü mimari eserdir?**
- A) Sultan Ahmet Camii
B) III. Ahmet Çeşmesi
C) Selimiye Camii
D) Alman Çeşmesi
E) Süleymaniye Külliyesi
- 5) I. Sedefkar Mehmet Ağa tarafından inşa edilmiştir.
II. İznik çinileri ile süslenmiştir.
III. İstanbul'da yer alan en seçkin dini mimari örneklerinden biridir.
Yukarıdakilerden hangileri Sultan Ahmet Camii'nin özellikleri arasında yer alır?
- A) Yalnız III
B) I ve II
C) I ve III
D) II ve III
E) I, II ve III
- 6) **Aşağıdakilerden hangisi XVII. yüzyıldan itibaren Osmanlı İmparatorluğu'nda artan isyanların nedenlerinden biri değildir?**
- A) Merkezi otoritenin zayıflaması
B) Dirlik sisteminin bozulması
C) Saltanat Yasası'nın uygulanması
D) Toplumda adaletsizliğin yaygınlaşması
E) Vergi miktarının artması
- 7) **Osmanlı Devleti'nde gelir - gider dengesini oluşturarak ilk denk bütçeyi oluşturan devlet adamı aşağıdakilerden hangisidir?**
- A) Tarhuncu Ahmet Paşa
B) Çandarlı Halil Paşa
C) Kuyucu Murat Paşa
D) Sokollu Mehmet Paşa
E) Alemdar Mustafa Paşa
- 8) **Aşağıdakilerden hangisi Tanzimat Fermanı'nın özelliklerinden biri değildir?**
- A) Yasa gücünün üstünlüğünü kabul etmesi
B) Hukuk devleti anlayışını savunması
C) Eşitlik ve adalet kavramlarının üzerinde durması
D) Padişahın yetkilerini kısıtlaması
E) Halka devlet yönetiminde söz vermesi
- 9) I. Arnavutluk
II. Yunanistan
III. Bulgaristan
Yukarıdaki devletlerden hangileri XX. yüzyılda bağımsızlığını ilan etmiştir?
- A) Yalnız I
B) I ve II
C) I ve III
D) II ve III
E) I, II ve III
- 10) Erzurum Kongresi'nde "ulusal iradenin saltanat ve hilafet makamını kurtaracağı" kararı alınmıştır.
Bu kararın alınmasının temel amacı aşağıdakilerden hangisidir?
- A) İslam ülkelerinin desteğini kazanmak
B) İstanbul Hükümeti'yle ortak kararlar almak
C) Padişahın gücünden yararlanmak
D) İmparatorluk yapısını bu yolla korumak
E) Kamuoyunun tepkisini azaltmak
- 11) I. Temsil Heyeti
II. Anadolu ve Rumeli Müdafaa-i Hukuk Cemiyeti
III. İrade-i Milliye gazetesi
Yukarıdakilerden hangilerinin oluşturulmasında Sivas Kongresi etkili olmuştur?
- A) Yalnız II
B) I ve II
C) I ve III
D) II ve III
E) I, II ve III
- 12) **Misak-ı Milli kararlarının alındığı yer aşağıdakilerden hangisidir?**
- A) Sivas
B) Erzurum
C) Ankara
D) İstanbul
E) Amasya
- 13) **Aşağıdakilerden hangisi I. TBMM'nin özellikleri arasında yer almaz?**
- A) İhtilal meclisi olma
B) Devrimlere öncelik verme
C) Güçler birliği esasını uygulama
D) Meclis Hükümeti sistemiyle çalışma
E) Ulusal mücadeleyi tek elden sürdürme
- 14) **Kurtuluş Savaşı sırasında imzalanan Moskova ve Kars antlaşmalarının ortak özelliği aşağıdakilerden hangisidir?**
- A) Rusya tarafından imzalanması
B) Rusya'nın kapitülasyonların kaldırılmasını kabul etmesi
C) Ermeni sorununa yol açması
D) Türkiye'nin doğu sınırını çizmesi
E) I. İnönü Savaşı sonunda imzalanması
- 15) **San Remo Konferansı'nda aşağıdaki antlaşmalardan hangisinin esasları tespit edilmiştir?**
- A) Sevr Barış Antlaşması'nın
B) Lozan Barış Antlaşması'nın
C) Gümrü Antlaşması'nın
D) Mudanya Ateşkes Antlaşması'nın
E) Ankara Antlaşması'nın

16) Sakarya Savaşı'ndan sonra imzalanan Ankara Antlaşması'nın,

- I. Fransa'nın TBMM'yi resmen tanıması
 - II. Hatay'da özel bir yönetim kurularak Fransız mandasına bırakılması
 - III. Çukurova bölgesindeki Fransız askerlerinin bölgeden çekilmesi
- kararlarından hangileri Misak-ı Milli'ye aykırıdır?**

- A) Yalnız I B) Yalnız II C) I ve III
D) II ve III E) I, II ve III

17) Lozan Barış Antlaşması'nda TBMM'nin en başarılı olduğu konu aşağıdakilerden hangisidir?

- A) Boğazlar B) Irak sınırı C) Kapitülasyonlar
D) Suriye sınırı E) Patrikhane

18) Saltanatın kaldırılmasıyla yaşanan devlet başkanlığı ve devletin rejimi sorunları aşağıdakilerden hangisinin ardından sonra çözüme kavuşmuştur?

- A) Medeni Kanun'un kabulüyle
B) Çok partili siyasi hayata geçişle
C) Cumhuriyetin ilanıya
D) CHP'nin kurulmasıyla
E) Halifeliğin kaldırılmasıyla

19) Aşağıdakilerden hangisinin ilk kez Atatürk döneminde gerçekleştirildiği söylenemez?

- A) İlköğretimin zorunlu hale getirilmesi
B) Millet mekteplerinin açılması
C) Kadınlara seçme - seçilme hakkının verilmesi
D) Cumhuriyet döneminin ilk siyasi partilerinin kurulması
E) Laik eğitimin temellerinin atılması

20) Şeyh Said ayaklanması aşağıdaki sorunların hangisinin çözümünde olumsuz bir etkiye sahip olmuştur?

- A) Nüfus değişimi B) Musul C) Boğazlar
D) Hatay E) Kapitülasyonlar

21) 1929 yılında ithalat mallarından alınan gümrük tarifeleri yükseltmiştir.

Bu uygulamayla,

- I. yerli üretimin rekabet gücünü artırmak
 - II. ulusal ekonomiyi güçlendirmek
 - III. ithal malların kullanımını yaygınlaştırmak
- amaçlarından hangilerine ulaşılmak istenmiştir?**

- A) Yalnız I B) Yalnız II C) Yalnız III
D) I ve II E) I, II ve III

22) Harf Devrimi'nin yapılması,

- I. kitap sayısının çoğalması
 - II. okur yazar oranının artması
 - III. ulusal kültürün gelişmesi
- sonuçlarından hangilerine neden olmuştur?**

- A) Yalnız I B) Yalnız II C) I ve II
D) I ve III E) II ve III

23) Cumhuriyet Dönemi'nde,

- I. Latin alfabesinin kabul edilmesi
 - II. Türk Tarih Kurumu'nun kurulması
 - III. Miladi Takvim'in kabul edilmesi
- yeniliklerinden hangileri evrensel nitelik taşımaktadır?**

- A) Yalnız I B) Yalnız II C) I ve II D) I ve III E) I, II ve III

24) I. Saltanatın kaldırılması

- II. Halifeliğin kaldırılması
 - III. Sonbahar Bunalımı'nın yaşanması
- durumlarından hangileri Cumhuriyet'in ilanına ortam hazırlamıştır?**

- A) Yalnız I B) I ve II C) I ve III
D) II ve III E) I, II ve III

25) I. "Devletin dini İslam'dır." maddesinin anayasadan çıkarılması

- II. Laiklik ilkesinin anayasaya girmesi
 - III. Halifeliğin kaldırılması
- gelişmelerinin kronolojik sırası aşağıdakilerden hangisidir?**

- A) I, II, III B) II, I, III C) II, III, I
D) III, I, II E) III, II, I

26) I. Ekonomide devletçiliği savunması

- II. devrimlerin gerçekleştirilmesine öncelik vermesi
 - III. Cumhuriyet'in ilanından önce kurulması
- Yukarıdakilerden hangileri Halk Fırkası'yla ilgilidir?**

- A) Yalnız I B) Yalnız II C) I ve II
D) II ve III E) I, II ve III

27) Teşvik-i Sanayi Kanunu'nun başarısız olması aşağıdakilerden hangisinin ortaya çıkmasına neden olmuştur?

- A) I. Beş Yıllık Kalkınma Planının
B) Medeni Kanun'un
C) Tarım Kredi Kooperatiflerinin
D) Toprak Reformu projesinin
E) Tevhid-i Tedrisat Kanunu'nun

28) Erkan-ı Harbiye Vekaleti'nin kaldırılmasının,

- I. ordunun siyasetten ayrılması
 - II. laik devletin temellerinin atılması
 - III. Genel Kurmay Başkanlığı'nın kurulması
- gelişmelerinden hangilerine katkısı olmuştur?**

- A) Yalnız II B) Yalnız III C) I ve II
D) I ve III E) II ve III

29) Atatürk Dönemi'nde yabancı okullarla ilgili konularda özellikle aşağıdaki ülkelerden hangisiyle sorun yaşanmıştır?

- A) Yunanistan B) Fransa C) İtalya
D) Almanya E) Avusturya

30) I. Irak sınırı

- II. Suriye sınırı
 - III. Kafkas sınırı
- Yukarıdakilerden hangileri Lozan Antlaşması sonrasında dış politika süreci içerisinde belirlenmiştir?**

- A) Yalnız I B) Yalnız II C) Yalnız III
D) I ve II E) II ve III

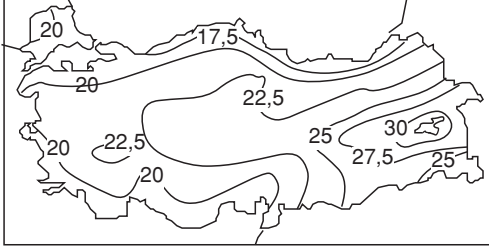
31) Türkiye'de aşağıdaki etkinliklerden hangisinin ülke ekonomisine katkısı en azdır?

- A) Tarım B) Ormancılık C) Hayvancılık
D) Sanayi E) Turizm

32) Türkiye ile ilgili aşağıdaki özelliklerden hangisi, ülkenin matematik konumu ile açıklanabilir?

- A) Karadeniz Bölgesi'nde kıyı ile iç kesimler arasındaki ulaşımın zor olması
- B) Kuzeyden esen rüzgârların sıcaklığı düşürmesi
- C) İç kesimlerde deniz etkisinin görülmemesi
- D) Tarım alanlarının bir kısmında makineli tarım yapılması
- E) Yol yapım giderlerinin genelde yüksek olması

33)



Yukarıdaki Türkiye'nin yıllık sıcaklık farklarının dağılımını gösteren haritadan yararlanılarak yapılan açıklamalardan hangisi yanlıştır?

- A) Kıyılardaki sıcaklık farkı iç kesimlerden azdır.
- B) Kıyılardan iç kısımlara gidildikçe sıcaklık farkları artar.
- C) Doğu Anadolu'da yükselti karasallığı artırmıştır.
- D) Güneyden kuzeye gidildikçe sıcaklık farkları artmıştır.
- E) Sıcaklık farklarının en az olduğu yer Karadeniz kıyılarıdır.

34) Türkiye'de dağınık yerleşmelere yüzey şekillerinin engebeli olduğu ve sulama sorununun olmadığı bölgelerde rastlanmaktadır.

Buna göre aşağıdaki bölümlerin hangisinde dağınık yerleşme daha yaygındır?

- A) Doğu Karadeniz
- B) Orta Kızılırmak
- C) Dicle
- D) Ergene
- E) Yukarı Fırat

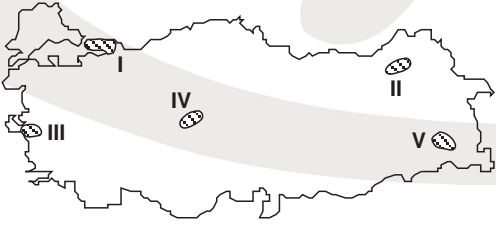
35) I. İskenderun
II. Ereğli
III. Batman
IV. Antalya
V. Seydişehir

Yukarıda dışarıdan göç alan bazı kentler verilmiştir.

Bu kentlerden hangisi farklı bir nedenden dolayı göç alır?

- A) I
- B) II
- C) III
- D) IV
- E) V

36)



Yukarıdaki Türkiye haritasında numaralanmış yörelerin hangilerinde, konutlarda kullanılan yapı malzemeleri doğal koşullardan daha az etkilenir?

- A) I ve II
- B) I ve III
- C) II ve IV
- D) III ve V
- E) IV ve V

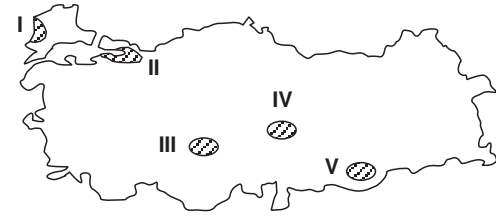
37) Türkiye'de kaplıca ve ılıca olarak adlandırılan su kaynaklarının yaygın olarak bulunması;

- I. fay hatlarının geniş yer tutması
- II. akarsu aşındırma şekillerinin yaygın olması
- III. deprem kuşağında bulunması
- IV. dalga biriktirme şekillerinin bulunması

gibi özelliklerden hangilerinin varlığına kanıt oluşturmaz?

- A) Yalnız I
- B) Yalnız II
- C) I ve II
- D) II ve III
- E) II ve IV

38)



Türkiye'nin jeolojik yapısı göz önüne alındığında, yukarıdaki haritada numaralanmış yörelerin hangisinde şiddetli yer sarsıntıları daha fazla görülür?

- A) I
- B) II
- C) III
- D) IV
- E) V

39) Doğu Karadeniz Bölümü'nde heyelân olaylarının daha çok ilkbahar mevsiminde görülmesinde;

- I. kar erimelerinin etkili olması
- II. bitki örtüsünün zengin olması
- III. toprağın suyla doymun hale gelmesi

gibi etkenlerden hangileri rol oynar?

- A) Yalnız I
- B) Yalnız III
- C) I ve II
- D) I ve III
- E) II ve III

40) Türkiye'de rüzgâr aşındırmasının aşağıdaki bölümlerin hangisinde daha etkili olması beklenir?

- A) Batı Karadeniz
- B) Yıldız Dağları
- C) Kıyı Ege
- D) Hakkari
- E) Konya

41) Ekili-dikili arazi oranı en fazla olan bölge Marmara Bölgesi olmasına karşın, bölgenin fizyolojik nüfus yoğunluğu fazladır.

Bu durumun ortaya çıkması Marmara Bölgesi'nin hangi özelliğinden kaynaklanır?

- A) Yüzölçümünün küçük olmasından
- B) İklim çeşitliliğinin fazla olmasından
- C) Ulaşım ağının sık olmasından
- D) Kuzeyden gelen rüzgârlara açık olmasından
- E) Nüfusunun fazla olmasından

42) Türkiye'de iç bölge ovalarının yüksekte yer almalarında;

- I. aktif fay hatlarının bulunması
- II. epirojenez sonucu yükselmeleri
- III. akarsu ağının sık olması
- IV. buzul etkisinin olması

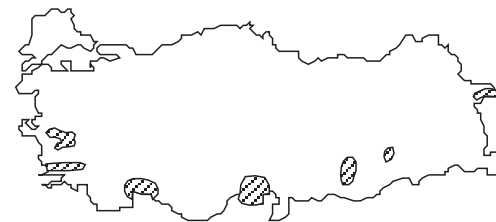
gibi özelliklerden hangileri etkili olmuştur?

- A) Yalnız I
- B) Yalnız II
- C) Yalnız IV
- D) I ve III
- E) II ve IV

43) Türkiye'nin tarımsal etkinliklerinde tümüyle makineleşmeye geçilememiş olmasında aşağıdakilerden hangisinin etkisi yoktur?

- A) Bazı yörelerde tarım arazilerinin dağınık ve parçalı olmasının
- B) Makine fiyatlarının bazı üreticilerin alım gücünden yüksek olmasının
- C) Makineli tarımın verimi düşürmesinin
- D) Bazı yörelerde ucuz iş gücü olanakları bulunmasının
- E) Engebeli arazinin yaygın olmasının

44)



Yukarıdaki Türkiye haritasında başlıca üretim alanları gösterilen tarım ürünü aşağıdakilerden hangisidir?

- A) Pamuk
- B) Zeytin
- C) Tütün
- D) Turunçgil
- E) Pirinç

45) Aşağıda dört madenin çıkarıldığı ve işlendiği yerler verilmiştir.

Çıkarıldığı Yer	İşlendiği Yer
Küre	Samsun
Susurluk	Bandırma
Akseki	Seydişehir
Divriği	Karabük

Buna göre aşağıdakilerden hangisi bu madenlerden biri değildir?

- A) Bakır B) Boksit C) Demir D) Bor E) Krom

46) Antalya Bölümü'nde aşağıdakilerden hangisinin gelişmesi turizm faaliyetlerinin yoğun olmasına bağlı değildir?

- A) Ulaşım B) Haberleşme C) Tarım D) Ticaret E) İnşaat

- 47) I. Tütün
II. Fındık
III. Pirinç
IV. Antepfıstığı
V. İncir

Yukarıda verilenlerden hangileri Türkiye'nin dışsatım yaptığı tarım ürünleri arasında yer almaz?

- A) Yalnız I B) Yalnız III C) I ve II D) III ve V E) IV ve V

48) Aşağıdakilerden hangisi Türkiye'nin özel konumunun sonuçlarından biridir?

- A) Dağların güney yamaçlarının kuzey yamaçlarından sıcak olması
B) Kıyılardaki bitki örtüsünün, iç kesimlerden yaygın olması
C) Güney kıyılarının, kuzey kıyılarından sıcak olması
D) Kış mevsiminde cephesel yağışların yaygın olması
E) Cisimlerin gölge yönlerinin kuzey sektörünü göstermesi

49) TBMM'nin sahip olduğu hükümeti denetleme araçlarından hangisi, Bakanlar Kurulunun veya bir bakanın düşürülmesiyle sonuçlanabilir?

- A) Meclis Araştırması B) Sözlü soru C) Gensoru
D) Soru E) Meclis Soruşturması

50) Genel Kurmay Başkanı görev ve yetkilerinden dolayı aşağıdakilerden hangisine karşı sorumludur?

- A) Cumhurbaşkanı B) Bakanlar Kurulu C) Milli Savunma Bakanı
D) Başbakan E) İçişleri Bakanı

51) Aşağıdakilerden hangisi bir anayasanın katı anayasa olduğunun göstergelerinden biri değildir?

- A) Değişiklik teklifinin kabulü için farklı bir sayı aranması
B) Değişiklik teklifine onay aşamasının eklenmesi
C) Anayasa Mahkemesi'ne iptal davası açılmaması
D) Değişiklik yeter sayısının normal kanunlardan farklı olması
E) Değişiklik teklifinin görüşülmesinde farklı bir usul izlenmesi

52) Aşağıdakilerden hangisi 1982 Anayasası'nda yer alan siyasi hak ve ödevlerden biridir?

- A) Eğitim ve öğretim hakkı B) Sendika kurma hakkı
C) Özel hayatın gizliliği D) Seçme ve seçilme hakkı
E) Çalışma hakkı

53) Aşağıda verilenlerden hangisi TBMM'nin görevleri arasında bulunmaz?

- A) Yabancı silahlı kuvvetlerin Türkiye'de konuşlandırılmasına izin vermek
B) Mahkemelerce verilip kesinleşen ölüm cezalarının yerine getirilmesine karar vermek
C) Para basılmasına bir kanun çıkararak karar vermek
D) Olağanüstü hal ilanını onaylamak
E) Uluslararası antlaşmaların onaylanmasını kanunla uygun bulmak

54) 1982 Anayasası'na göre temel hakların sınırlanmasıyla ilgili aşağıdaki ifadelerden hangisi yanlıştır?

- A) Sınırlama anayasaya aykırı olamaz.
B) Sınırlama hakkın özüne dokunamaz
C) Sınırlamanın kanunla olması şart değildir.
D) Milletlerarası hukuk ancak yabancıların haklarının sınırlanmasında doğrudan kaynak olarak gösterilmiştir.
E) Sınırlamanın ölçüsüz olamayacağı 2001 Anayasa değişikliğiyle getirilmiştir.

55) Anayasanın üstünlüğü ilk kez hangi anayasada tam anlamı ile sağlanmıştır?

- A) 1876 B) 1921 C) 1924 D) 1961 E) 1982

56) 1982 Anayasası'na göre Cumhurbaşkanı anayasa değişikliklerini aşağıdaki koşullardan hangisinde halk oyuyla sunmak zorundadır?

- A) Mecliste 2/3'ten fazla bir çoğunlukla kabul edildiğinde
B) Mecliste 3/4 çoğunlukla kabul edildiğinde
C) Mecliste 1/2 çoğunlukla kabul edildiğinde
D) Mecliste 3/5 veya daha fazla, 2/3'ten az çoğunlukla kabul edildiğinde
E) Mecliste 4/5 çoğunlukla kabul edildiğinde

57) Aşağıdaki kuruluşlardan hangisinin kamu tüzel kişiliği Anayasada belirtilmemiştir?

- A) İl Özel İdaresi B) Üniversite C) Bakanlıklar
D) Köy E) Belediye

58) Belediye Başkanının görevinden alınmasında nihai kararı verme yetkisi aşağıdakilerden hangisine aittir?

- A) Cumhurbaşkanına B) Danıştaya C) Yargıtaya
D) İçişleri Bakanına E) Adalet Bakanına

59) Türkiye'de bankacılık alanını denetleyen kurum aşağıdakilerden hangisidir?

- A) Merkez Bankası
B) Hazine Müsteşarlığı
C) Bankacılık Düzenleme ve Denetleme Kurulu
D) Bankalararası Kurul
E) Sermaye Piyasası

60) Türkiye'de iç hukuk yollarını tüketen bir kişi olumsuz karardan ne zaman sonra AİHM'ye başvurabilir?

- A) 6 ay B) 8 ay C) 9 ay D) 10 ay E) 12 ay

TEST BİTTİ.
CEVAPLARINIZI KONTROL EDİNİZ.

GENEL YETENEK			GENEL KÜLTÜR		
1- E	21- C	41- E	1- B	21- D	41- E
2- B	22- D	42- C	2- A	22- C	42- B
3- B	23- C	43- B	3- E	23- D	43- C
4- D	24- C	44- B	4- B	24- C	44- A
5- E	25- A	45- E	5- E	25- D	45- E
6- D	26- E	46- B	6- C	26- E	46- C
7- B	27- C	47- C	7- A	27- A	47- B
8- E	28- D	48- C	8- E	28- D	48- B
9- E	29- C	49- E	9- C	29- B	49- C
10- B	30- E	50- E	10- E	30- D	50- D
11- C	31- C	51- E	11- E	31- B	51- C
12- D	32- A	52- B	12- D	32- B	52- D
13- C	33- D	53- C	13- B	33- D	53- B
14- B	34- E	54- B	14- D	34- A	54- C
15- C	35- A	55- C	15- A	35- D	55- D
16- C	36- D	56- B	16- B	36- B	56- D
17- B	37- A	57- A	17- C	37- E	57- C
18- C	38- B	58- A	18- C	38- B	58- B
19- B	39- B	59- D	19- A	39- D	59- C
20- E	40- E	60- B	20- B	40- E	60- A